

ADRE 2024

MOCK TEST SET - 1

QUESTION BOOKLET CODE :

NAME :

CONTACT NUMBER :

EMAIL ID :

A

1. Create a Quiet Environment: Find a quiet place where you won't be disturbed for at least 3 hours. Make sure to turn off your mobile phone and any other gadgets that might cause distractions during the exam. কমেও ৩ ঘণ্টাৰ বাবে আপুনি বিঘ্নিত নহ'বলগীয়া এটা শান্ত ঠাই বিচাৰি লওক। পৰীক্ষাৰ সময়ত আপোনাক মবাইলে ব্যাঘাত ঘটাব পাৰে তেনে মোবাইল ফোন আৰু অন্য যিকোনো গেজেট বন্ধ কৰি ৰাখক।

2. Prepare Your Materials: Ensure you have a black ballpoint pen, a rough sheet of paper, a clock or timer to monitor your time, and a water bottle to stay hydrated if necessary. এটা ক'লা বলপইণ্ট পেন, এক টুকুৰা খচৰা কাগজ, সময় চাবলৈ এখন ঘড়ী বা টাইমাৰ, আৰু প্ৰয়োজন হলে পানীৰ বতল এটা সাজু ৰাখক।

3. Exam Duration and Structure: The exam will last for 3 hours, containing 150 questions, and the total marks will be 175. Most questions are worth 1 mark each, but questions in the English comprehension section are worth 2 marks each. পৰীক্ষাৰ সময় ৩ ঘণ্টাৰ হ'ব, য'ত মুঠ ১৫০ টা প্ৰশ্ন থাকিব আৰু মুঠ নম্বৰ হ'ব ১৭৫। প্ৰায়বোৰ প্ৰশ্ন ১ নম্বৰৰ হ'ব, কিন্তু ইংৰাজী comprehension অংশৰ প্ৰশ্নবোৰ ২ নম্বৰৰ হ'ব।

4. Negative Marking: Be cautious with your answers as there is negative marking. For every incorrect answer, 1/4th of the marks for that question will be deducted. This means 0.25 marks will be deducted for wrong answers to 1-mark questions, and 0.50 marks for wrong answers to 2-mark questions. আপোনাৰ উত্তৰ দিয়াৰ সময়ত সাৱধান হ'ব, কাৰণ ভুল উত্তৰৰ বাবে নেগেটিভ মাৰ্কিং আছে। প্ৰতিটো ভুল উত্তৰৰ বাবে সেই প্ৰশ্নৰ নম্বৰৰ ১/৪ অংশ কাটি দিয়া হ'ব। ইয়াৰ অৰ্থ হ'ল ১ নম্বৰৰ প্ৰশ্নৰ ভুল উত্তৰৰ বাবে ০.২৫ নম্বৰ কাটি দিয়া হ'ব, আৰু ২ নম্বৰৰ প্ৰশ্নৰ ভুল উত্তৰৰ বাবে ০.৫০ নম্বৰ কাটি দিয়া হ'ব।

5. Question Format: The exam will consist of Multiple Choice Questions (MCQs). Each question will have only one correct answer that must be selected from the given options. পৰীক্ষাটো সম্পূৰ্ণপৰাই Multiple Choice Questions (MCQs) ৰ হ'ব। প্ৰতিটো প্ৰশ্নৰ মাত্ৰ এটা সঠিক উত্তৰ থাকিব, যি আপোনাক দিয়া বিকল্পসমূহৰ পৰা বাছনি কৰিব লাগিব।

TOTAL MARK : 175

TOTAL QUESTIONS : 150

TIME ALLOWED : 3 HOURS



ASSAMEDU.IN

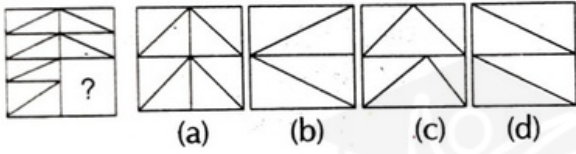
1. Find the next number in the given series

প্রদত্ত শৃংখলাৰ পৰৱৰ্তী সংখ্যাটো বিচাৰক

101, 123, 147, 173, ?

- A) 236
B) 201
C) 214
D) 223

2. Select the option that will replace the question mark and complete the given pattern. প্রশ্নবোধক চিহ্নটো সলনি কৰিব পৰা বিকল্পটো বাছনি কৰক আৰু প্ৰদত্ত আৰ্হিটো সম্পূৰ্ণ কৰক।



3. The statements below are followed by two conclusions labeled I and II. Assuming that the information in the statements is true, even if it appears to be at variance with generally established facts, decide which conclusion(s) logically and definitely follow(s) from the information given in the statements. তলৰ বিবৃতিবোৰৰ পিছত I আৰু II লেবেল যুক্ত দুটা সিদ্ধান্ত আছে। বিবৃতিবোৰত থকা তথ্যবোৰ সাঁচা বুলি ধৰি লৈ, বিবৃতিবোৰত দিয়া তথ্যৰ পৰা কোনটো সিদ্ধান্ত যুক্তিসঙ্গতভাৱে আৰু নিশ্চিতভাৱে অনুসৰণ কৰে বাছনি কৰক।

Statement:

1. Some cats are goats / কিছুমান মেকুৰী ছাগলী
2. All goats are cows / সকলো ছাগলী গৰু

Conclusions

- I. All cows are goats / সকলো গৰু ছাগলী
II. Some cats are cows / কিছুমান মেকুৰী গৰু

- (a) Both conclusions I and II follow
(b) Either conclusion or it follows
(c) Only conclusion II follows
(d) Only conclusion I follows

4. Four numbers have been given out of which three are alike in some manner, while one is different. Choose the odd one. চাৰিটা সংখ্যা দিয়া হৈছে যাৰ ভিতৰত তিনিটা কোনো প্ৰকাৰে একে, আনহাতে এটা পৃথক। অঙ্কতটো বাছনি কৰক ?

- (a) 68
(b) 72
(c) 48
(d) 96

5. A, B, C, D, E and F are six friends seating in a long bench. E and F are at the centre while while A and B are at the two extreme ends. C is sitting to the immediate left of A. Can you identify who is sitting to the immediate right of B? A, B, C, D, E আৰু F হৈছে দীঘল বেঞ্চত বহি থকা ছয়জন বন্ধু। E আৰু F কেন্দ্ৰত আছে যেতিয়া এ আৰু বি দুটা চৰম মূৰত আছে। চিচ এ-ৰ তাৎক্ষণিক বাওঁফালে বহি আছে। আপুনি চিনাক্ত কৰিব পাৰিবনে কোনে বি-ৰ তাৎক্ষণিক সোঁফালে বহি আছে?

- (a) C
(b) D
(c) F
(d) E

6. Select the option that is related to the third term in the same way as the second term is related to the first term. তৃতীয় ম্যাদৰ সৈতে সম্পৰ্কিত বিকল্পটো বাছনি কৰক যিদৰে দ্বিতীয় কাৰ্যকালটো প্ৰথম ম্যাদৰ সৈতে সম্পৰ্কিত।

- (a) 28
(b) 26
(c) 21
(d) 24

7. Select the option that is analogous to the given pair প্রদত্ত যোৰটোৰ সৈতে সাদৃশ্য থকা বিকল্পটো বাছনি কৰক

Heart : Cardiology

- A) Plants: Zoology
B) Phycology: Fungi
C) Disease : Hospital
D) Virus : Virology

8. If in a certain code language the word POLITICAL is written as QNMHUHDZM, then in the same code language how will you write the word SOCIAL? (যদি এটা নিৰ্দিষ্ট কোড ভাষাত POLITICAL শব্দটো QNMHUHDZM হিচাপে লিখা হয়, তেন্তে একে কোড ভাষাত আপুনি SOCIAL শব্দটো কেনেদৰে লিখিব?)

- (a) DBKNTH
(b) NTHDBK
(c) DHRKTN
(d) TNDHBK

9. Six friends P, Q, R, S, T and U are sitting at a circular table facing the centre. S is sitting third to the left of T. F is not sitting between T and U. S is not the immediate neighbour of R. Q is seated second to the right of T. Who is sitting between U and Q? ছয়জন বন্ধু P,Q,R,S,T আৰু U কেন্দ্ৰৰ ফালে মুখ কৰি এখন বৃত্তাকাৰ টেবুলত বহি আছে। S, T ৰ বাওঁফালে তৃতীয় স্থানত বহি আছে, F, T আৰু U ৰ মাজত বহি থকা নাই। S, R ৰ নিকটতম চুবুৰীয়া নহয়। Q, T ৰ সোঁফালে দ্বিতীয় স্থানত বহি আছে, U আৰু Q ৰ মাজত কোন বহি আছে?

- A) S
B) R
C) P
D) T

10. The statements below are followed by two conclusions labeled I and II. Assuming that the information in the statements is true, even if it appears to be at variance with generally established facts, decide which conclusion(s) logically and definitely follow(s) from the information given in the statements. তলৰ বিবৃতিবোৰৰ পিছত I আৰু II লেবেল যুক্ত দুটা সিদ্ধান্ত আছে।

বিবৃতিবোৰত থকা তথ্যবোৰ সঁচা বুলি ধৰি লৈ, বিবৃতিবোৰত দিয়া তথ্যৰ পৰা কোনটো সিদ্ধান্ত যুক্তিসঙ্গতভাৱে আৰু নিশ্চিতভাৱে অনুসৰণ কৰে বাছনি কৰক।

1. All women are girls / সকলো মহিলাই ছোৱালী
2. Some girls are painters / কিছুমান ছোৱালী চিত্ৰশিল্পী

Conclusions

- I. All girls are women / সকলো ছোৱালী মহিলা
II. Some women are painters / কিছুমান মহিলা চিত্ৰশিল্পী

- (a) Only conclusion I follows
(b) Both conclusions I and II follow
(c) Neither conclusion I and II follows
(d) Only conclusion II follows

11. What will be the value of the following equation if '%' means 'addition, '+' means 'subtraction, '-' means 'multiplication' and '×' means 'division'? যদি '%' মানে 'যোগ, '+' মানে 'বিয়োগ, '-' মানে 'পূৰণ' আৰু '×' মানে 'বিভাজন' বুজায় তেন্তে নিম্নলিখিত সমীকৰণটোৰ মূল্য কি হ'ব?

$$49 \times 7 - 3\%9 + 4 = ?$$

- A) 31
B) 26
C) 35
D) 39

12. Select the option that is related to the third term in the same way as the second term is related to the first term. তৃতীয় ম্যাদৰ সৈতে সম্পৰ্কিত বিকল্পটো বাছনি কৰক যিদৰে দ্বিতীয় কাৰ্যকালটো প্ৰথম ম্যাদৰ সৈতে সম্পৰ্কিত।

PURSE: UPRES :: RAZOR

- A) AROZR
B) AZROR
C) ARZRO
D) ARRZO

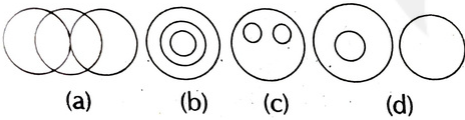
13. Select the pair of letters that will follow next in the given series. প্রদত্ত শৃংখলাত পৰৱৰ্তী সময়ত অনুসৰণ কৰিব লগা বৰ্ণৰ যোৰটো বাছনি কৰক

AB, GH, MN, ST, ?

- A) YZ
B) VW
C) UV
D) XY

14. Select the Venn diagram that best represents the relationship among the given set of classes: প্রদত্ত শ্ৰেণীবোৰৰ মাজৰ সম্পৰ্কটো সৰ্বশ্ৰেষ্ঠভাৱে প্ৰতিনিধিত্ব কৰা ভেন নক্সাটো বাছনি কৰক:

Metals, Silver, Gold



15. Find the next number in the given series. প্রদত্ত শৃংখলাত পৰৱৰ্তী নম্বৰটো বিচাৰক

2, 10, 84, ?

- A) 1028
B) 1229
C) 1124
D) 1032

16. Identify the mirror image of the following word when mirror is placed at right side. দাপোনৰ সোঁফালে ৰাখিলে নিম্নলিখিত শব্দটোৰ দাপোনৰ ছবি চিনাক্ত কৰক।

INSOMNIA

- (a) AINMSONI (b) AINMOZNI
(c) INMSONI (d) INOZNIIV

17. If in a certain code language TERRACE written as 70, then in the same code language how will you write the word BALCONY? যদি TERRACE ক 70 হিচাপে লিখা এটা নিৰ্দিষ্ট কোড ভাষাত লিখা হয়, তেন্তে একে কোড ভাষাত আপুনি BALCONY শব্দটো কেনেদৰে লিখিব?

- A) 74
B) 73
C) 72
D) 71

18. Pick the odd one out ? অদ্ভুতটো বাছনি কৰক

- A) FGH
B) AEI
C) IOU
D) OUA

19. Pick the add one-out ? অদ্ভুতটো বাছনি কৰক

- A) Detect
B) Perceive
C) Ignorance
D) Observe

20. Five men PQRS and T are reading a newspaper. The one who reads it first, gives it to T. The one who reads it last, had taken it from R. Q is not the first or last one to read it There were two readers between P and R. Who is the third one to have read the newspaper? পাঁচজন পুৰুষ PQRS আৰু T য়ে এখন বাতৰি কাকত পঢ়ি আছে। যিজনে ইয়াক প্ৰথমে পঢ়ে, এইটো T ক দিয়ে। যিজনে ইয়াক শেষত পঢ়ে, যি R ৰ পৰা লৈছিল, Q বাতৰি পঢ়া প্ৰথম বা অন্তিম নহয়, P আৰু R ৰ মাজত দুজন পঢ়ুৱৈ আছিল। বাতৰি কাকত পঢ়া তৃতীয়জন কোন ?

- A) R
B) Q
C) S
D) P

21. The Pakistani General imposed military rule in his country in the year 1999? কোনজন পাকিস্তানী জেনেৰেলে ১৯৯৯ চনত তেওঁৰ দেশত সামৰিক শাসন জাৰি কৰিছিল?

- (a) Ziauddin Butt / জিয়াউদ্দিন বাট
- (b) Qamar Javed / কমাৰ জাভেদ
- (c) Raheel Sharif / বাহিল শ্বৰীফ
- (d) Parvez Musharraf / পাৰভেজ মুছাৰাফ

22. The Banaras Hindu University was founded by ? বনাৰস হিন্দু বিশ্ববিদ্যালয় খন কাৰ দ্বাৰা প্ৰতিষ্ঠা কৰা হৈছিল?

- (a) Bal Gangadhar Tilak / বাল গংগাধৰ তিলক
- (b) Jawaharlal Nehru / জৱাহৰলাল নেহৰু
- (c) Sir Syed Mohammad / ছাৰ চৈয়দ মহম্মদ
- (d) Pandit Madan Mohan Malaviya / পণ্ডিত মদন মোহন মালৱীয়া

23. Which medal did Neeraj Chopra win in the men's javelin throw at the Paris Olympics 2024? পেৰিছ অলিম্পিক ২০২৪ ত পুৰুষৰ জেভলিন থ্ৰোত নীৰজ চোপ্ৰাই কোনটো পদক জিকিছিল?

- A) Gold / সোণ
- B) Silver / বৃপ
- C) Bronze / ব্ৰঞ্জ
- D) No medal / কোনো পদক নাই

24. The right of a person, party or nation to stop a certain decision or law is called ? কোনো ব্যক্তি, দল বা ৰাষ্ট্ৰৰ এক নিৰ্দিষ্ট সিদ্ধান্ত বা আইন বন্ধ কৰাৰ অধিকাৰক কি বুলি কোৱা হয়?

- (a) Authority
- (b) Vote
- (c) Veto
- (d) Power of attorney

25. Sodium hydroxide is not used for ? ছডিয়াম হাইড্ৰক্সাইড কিহৰ বাবে ব্যৱহাৰ কৰা নহয়?

- (a) making soap / চাবোন তৈয়াৰ কৰা
- (b) making newspapers / বাতৰি কাকত তৈয়াৰ কৰা
- (c) degreasing metals / ধাতু বোৰ ডিগ্ৰাজিং কৰা
- (d) preserving pickle / আচাৰ সংৰক্ষণ কৰা

26. Was the first woman Chief Election Commissioner of India. ভাৰতৰ প্ৰথম মহিলা মুখ্য নিৰ্বাচন আয়ুক্ত আছিল _____ ।

- (a) Pratibha Devi / প্ৰতিভা দেৱী
- (c) Rama Devi / ৰমা দেৱী
- (b) Meira Kumar / মীৰা কুমাৰ
- (d) Nirmala Sitaraman / নিৰ্মলা সীতাৰামণ

27. Who is the Current Chairman of Rajya Sabha as on August 2024 ? আগষ্ট 2024 অনুসৰি ৰাজ্যসভাৰ বৰ্তমানৰ অধ্যক্ষ কোন?

- A) Om Birla / ওম বিৰলা
- B) Nirmala Sitharaman / নিৰ্মলা সীতাৰামণ
- C) Jagdeep Dhankhar / জগদীপ ধনখৰ
- D) Venkaiah Naidu / ভেংকায়া নাইডু

28. The book 'The Origin of Species' was written by ? 'প্ৰজাতিৰ উৎপত্তি' কিতাপখন কোনে লিখিছিল?

- (a) Louis Pasteur / লুই পাষ্টুৰ
- (b) James Watson / জেমছ ৱাটচন
- (c) Charles Darwin / চাৰ্লছ ডাৰউইন
- (d) Jane Goodwill / জেন গুডউইল

29. Kathakali has its roots in the State of ? কথকলী কোনটো ৰাজ্যৰ লগত জড়িত ?

- (a) Kerala / কেৰালা
- (b) Karnataka / কৰ্ণাটক
- (c) Andhra Pradesh / অন্ধ্ৰ প্ৰদেশ
- (d) Tamil Nadu / তামিলনাডু

30. Where is the Charminar located? চাৰমিনাৰ ক'ত অৱস্থিত?

- (a) Sikandrabad / সিকদ্রাবাদ
- (b) Mumbai / মুম্বাই
- (c) Panaji / পানাজী
- (d) Hyderabad / হায়দৰাবাদ

31. India & Sri Lanka are divided by ? ভাৰত আৰু শ্ৰীলংকা কিহৰ দ্বাৰা বিভক্ত?

- A) Gibraltar Straight / জিব্ৰাল্টাৰ ষ্ট্ৰেইট
- B) Bering straight / বেৰিং ষ্ট্ৰেইট
- C) Hormuz Straight / হৰ্মুজ ষ্ট্ৰেইট
- D) Palk Strait / পাল্ক ষ্ট্ৰেইট

32. Which of the following are not a part of the circulatory system ? নিম্নলিখিত কোনটো সংবহন প্ৰণালীৰ অংশ নহয়?

- (a) Capillaries / কেশিকা
- (c) Veins / শিৰা
- (b) Villi / ভিলি
- (d) Arteries / ধমনী

33. Kharif crops can be described as the crops which are sown with the beginning of the..... season. খৰিফ শস্যক শস্য বুলি বৰ্ণনা কৰিব পাৰি যিবোৰ ঋতুৰ আৰম্ভণিৰ সৈতে ৰোপণ কৰা হয়।

- (a) winter / শীতকাল
- (c) spring / বসন্ত
- (b) summer / গ্ৰীষ্মকাল
- (d) rainy / বৰষুণ

34. In August, 1858 the British Parliament passed an act that set an end to the rule of the company. It was called ? ১৮৫৮ চনৰ আগষ্ট মাহত ব্ৰিটিছ সংসদত এক আইন গৃহীত হয় যিয়ে কোম্পানীটোৰ শাসনৰ সমাপ্তি ঘটায়। আইনটোৰ নাম কি ?

- (a) Government of India Act / ভাৰত চৰকাৰ আইন
- (b) Indian Trusts Act / ভাৰতীয় ন্যাস আইন
- (c) Kazis Act / কাজী আইন
- (d) Fort William Act / ফৰ্ট উইলিয়াম আইন

35. MK Gandhi attended a highly official meeting with..... on the behalf of the Indian National Congress on negotiating terms of Constitutional reforms on March 5, 1931. মহাত্মা গান্ধীয়ে 1931 চনৰ 5 মাৰ্চত সাংবিধানিক সংস্কাৰৰ চৰ্তাৱলী আলোচনা কৰাৰ ক্ষেত্ৰত ভাৰতীয় জাতীয় কংগ্ৰেছৰ হৈ কাৰ সৈতে এক উচ্চ বৈঠকত অংশগ্ৰহণ কৰিছিল?

- (a) Lord Curzon / লৰ্ড কাৰ্জন
- (c) Lord Irwin / লৰ্ড আৰউইন
- (b) Lord Ripon / লৰ্ড ৰিপন
- (d) Lord Clive / লৰ্ড ক্লাইভ

36. The Blue Revolution in India is related to ? ভাৰতত নীলা বিপ্লৱ কিহৰ সৈতে সম্পৰ্কিত ?

- (a) jute production / পাট উৎপাদন
- (b) indigo production / নীল উৎপাদন
- (c) agriculture / কৃষি
- (d) fish production / মাছ উৎপাদন

37. The Indian desert lies towards the western margins of the ? ভাৰতীয় মৰুভূমি পশ্চিম _____ ফালে অৱস্থিত?

- (a) Kaimur Hills / কাইমুৰ পাহাৰ
- (b) Himadri / হিমাদ্ৰী
- (c) Nilgiri Hills / নীলগিৰি পাহাৰ
- (d) Aravalli Hills / আৰৱল্লী পাহাৰ

38. Which is the smallest bone in the human body? মানৱ শৰীৰৰ আটাইতকৈ সৰু হাড় কোনটো?

- (a) Carpals / কাৰ্পাল
- (b) Ulna / উলনা
- (c) Radius / ৰদিয়াছ
- (d) Stapes / ষ্টেপ

39. Who is the youngest medal winner for India at the Olympics? অলিম্পিকত ভাৰতৰ বাবে আটাইতকৈ কম বয়সীয়া পদক বিজয়ী কোন?

- A) PV Sindhu / পি ভি সিন্দু
- B) Neeraj Chopra / নীৰজ চোপ্ৰা
- C) Aman Sehrawat / অমন চেহৰৱত
- D) Sushil Kumar / সুশীল কুমাৰ

40. Ag' is the chemical symbol of an expensive, soft, white and lustrous metal which commonly known as ? 'Ag' ধাতুক সাধাৰণতে কি বুলি জনা যায়

- (a) Aluminium / এলুমিনিয়াম
(c) Mercury / মৰ্কুৰি
(b) Nickel / নিকেল
(d) Silver / বৃপ

41. When was the national flag formally adopted by the Constituent Assembly? সংবিধান সভাই কেতিয়া আনুষ্ঠানিকভাৱে ৰাষ্ট্ৰীয় পতাকা গ্ৰহণ কৰিছিল?

- A) January 26, 1950
B) August 15, 1947
C) July 22, 1947
D) November 26, 1949

42. When is Kargil Vijay Diwas observed annually? কাৰ্গিল বিজয় দিৱস বছৰি কেতিয়া পালন কৰা হয়?

- A) June 26
B) July 26
C) August 26
D) September 26

43. Major part of the Kachari Kingdom was occupied by the Ahoms during the reign of which of the following Kings? নিম্নলিখিত কোন জন ৰজাৰ শাসনকালত কচাৰী ৰাজ্যৰ মুখ্য অংশটো আহোমসকলে দখল কৰিছিল?

- a) Sukhapha / সুখম্ফা
b) Sutingpha / চুটিংফা
c) Rudra Singha / ৰুদ্ৰ সিংগা
d) Suhungmung / চুহুংমুং

44. What is the primary goal of the Namami Gange Mission? নমামি গঙ্গে মিছনৰ প্ৰাথমিক লক্ষ্য কি?

- A) To build new dams / নতুন বান্ধ নিৰ্মাণ কৰা
B) To rejuvenate and conserve the River Ganga / গংগা নদীক পুনৰুজ্জীৱিত আৰু সংৰক্ষণ কৰা
C) To promote tourism along the Ganga / গঙ্গাৰ কাষত পৰ্যটনৰ প্ৰচাৰ কৰা
D) To construct new bridges over the Ganga / গঙ্গাৰ ওপৰত নতুন দলং নিৰ্মাণ কৰা

45. What is the primary objective of the Har Ghar Tiranga campaign taking place from August 9 to August 15? ৯ আগষ্টৰ পৰা ১৫ আগষ্টলৈ অনুষ্ঠিত হ'ব ঘৰ তিৰঙ্গা অভিযানৰ প্ৰাথমিক উদ্দেশ্য কি?

- A) To promote tourism in India / ভাৰতত পৰ্যটনৰ প্ৰচাৰ কৰা
B) To strengthen patriotism among citizens / নাগৰিকসকলৰ মাজত দেশপ্ৰেম শক্তিশালী কৰা
C) To celebrate Indian festivals / ভাৰতীয় উৎসৱ উদযাপন কৰিবলৈ
D) To conduct a nationwide cultural competition / দেশজুৰি সাংস্কৃতিক প্ৰতিযোগিতা অনুষ্ঠিত কৰা

46. Mula Gabharu died fighting against: মুলা গাভাৰু কাৰ বিৰুদ্ধে যুঁজ দি মৃত্যু হৈছিল:

- (a) Det Chung / ডেট চুং
(b) Mir Jumla / মীৰ জুমলা
(c) Turbak / তুৰ্বাক
(d) Mirza Nathan / মিৰ্জা নাথন

47. Who wrote 'Tungkhungia Buranji'? কোনে 'তুংখুঙিয়া বুৰঞ্জী' লিখিছিল?

- (a) Visheswar Baidyadhupa / বিশেষ্বৰ বৈদ্যধিপা
(b) Srinath Barbarua / শ্ৰীনাথ বৰবিয়া
(c) Dutiram Hazarika / দুতিৰাম হাজাৰিকা
(d) Kashinath Tamuli Phukan / কাশীনাথ তামুলী ফুকন

48. The ancient name of Cachar was: কাছাৰৰ প্ৰাচীন নাম আছিল:

- a) Hidimba / হিদিম্বা
- b) Diapur / দিয়াপুৰ
- c) Dhanashree / ধনশ্ৰী
- d) Narayanpur / নাৰায়ণপুৰ

49. In which place was the first battle fought by the Ahoms against the Mughals? মোগলৰ বিৰুদ্ধে আহোমসকলে কৰা প্ৰথম যুদ্ধ কোন ঠাইত হৈছিল ?

- (a) Itakhuli / ইটাখুলি
- (b) Bharali / ভৰলী
- (c) Saraighat / শৰাইঘাট
- (d) Jogighopa / জোগিঘোপা

50. The school at Banduka where Madhavdeva read was maintained and taught by: মাধৱদেৱে পঢ়া বান্দুকৰ বিদ্যালয়খন বৰ্দ্ধনাবেৰ্দ্ধন আৰু কাৰ দ্বাৰা শিকোৱা হৈছিল:

- (a) Mukunda Adhyapaka / মুকুন্দা অধ্যাপকা
- (b) Jadavendra Adhyapaka / যাদবেন্দ্র অধ্যাপকা
- (c) Dhanesvara Adhyapaka / ধনেশৱৰা অধ্যাপকা
- (d) Rajendra Adhyapaka / ৰাজেন্দ্ৰ অধ্যাপকা

51. The oldest cannon inscription discovered in Assam belongs to which dynasty? অসমত আৱিষ্কৃত আটাইতকৈ পুৰণি কামানৰ শিলালিপিটো কোন ৰাজবংশৰ?

- (a) Ahoms / আহোম
- (b) Mughals / মোগল
- (c) Koch / কোচ
- (d) English / ইংৰাজী

52. From whose reign was the Sanskrit language used on Ahom coins? কাৰ ৰাজত্বকালৰ পৰা সংস্কৃত ভাষাক, আহোম মুদ্ৰাত ব্যৱহাৰ কৰা হৈছিল?

- (a) Sudangpha / চুদানঘা
- (b) Pratap Singh / প্ৰতাপ সিং
- (c) Siva Singha / শিৱ সিংঘা
- (d) Rudra Singha / ৰুদ্ৰ সিংঘা

53. The Battle of Saraighat was fought between: শৰাইঘাটৰ যুদ্ধ কাৰ কাৰ মাজত হৈছিল ?

- a) The Burmas and the Koches / বৰ্মা আৰু কোচ
- b) The Ahoms and the Mughals/ আহোম আৰু মোগল
- c) The Ahoms and the Kacharis/ আহোম আৰু কাচাৰি
- d) The Mughals and the Koches / মোগল আৰু কোচ

54. The Jorhat Sarbajanik Sabha was founded in the year ? জ্যোতি চাৰ্বাজানিক সভা কিমান চনত প্ৰতিষ্ঠা কৰা হৈছিল?

- A) 1884
- B) 1885
- C) 1886
- D) 1889

55. The source of India's sovereignty lies in the: ভাৰতৰ সাৰ্বভৌমত্বৰ উৎস হৈছে:

- (a) President / ৰাষ্ট্ৰপতি
- (b) Prime Minister / প্ৰধানমন্ত্ৰী
- (c) People of India / ভাৰতৰ লোক
- (d) Preamble to the Constitution / সংবিধানৰ প্ৰস্তাৱনা

56. Under which Article of the Constitution are the Cultural and Educational Rights granted? কোনটো সংবিধানৰ অনুচ্ছেদ অধীনত সাংস্কৃতিক আৰু শৈক্ষিক অধিকাৰ মঞ্জুৰ কৰা হৈছে ?

- (a) Article 29 and 31
- (b) Article 29 and 32
- (c) Article 29 and 30
- (d) Article 30 and 31

57. Which one is not correctly matched তলৰ কোনটো সঠিকভাৱে মিলোৱা হোৱা নাই?

- A) Freedom of speech and expression - Include freedom of press / মতামত আৰু প্ৰকাশৰ স্বাধীনতা - প্ৰেছৰ স্বাধীনতাক অন্তৰ্ভুক্ত কৰে
 B) Freedom of conscience - Include right to wear and carry kirpans by Sikhs / অন্তৰৰ স্বাধীনতা - শিখসকলৰ দ্বাৰা কৃপাণ পৰিধান আৰু বহন কৰিবলৈ অধিকাৰ অন্তৰ্ভুক্ত কৰে
 C) Right to Personal liberty - Include right to carry on any trade or business / ব্যক্তিগত স্বাধীনতাৰ অধিকাৰ - যিকোনো বাণিজ্য বা ব্যৱসায় চলাবলৈ অধিকাৰ অন্তৰ্ভুক্ত কৰে
 D) Right to Equality - Include principles of natural justice / সমতাৰ অধিকাৰ - প্ৰাকৃতিক ন্যায়ৰ নীতি অন্তৰ্ভুক্ত কৰে

58. A person can become a citizen of India even if born outside India if his/her: কোনো ব্যক্তি ভাৰতৰ বাহিৰত জন্মগ্ৰহণ কৰাৰ পিছতো ভাৰতৰ নাগৰিক হ'ব পাৰে যদি তেওঁৰ:

- A) Father is a citizen of India / পিতৃ হৈছে ভাৰতৰ নাগৰিক
 B) Mother is a citizen of India / মাতৃ হৈছে ভাৰতৰ নাগৰিক
 C) Father is a citizen of India at the time of the person's birth / ব্যক্তিজনৰ জন্মৰ সময়ত পিতৃ ভাৰতৰ নাগৰিক আছিল
 D) Father or mother is a citizen of India at the time of the person's birth / ব্যক্তিজনৰ জন্মৰ সময়ত পিতৃ বা মাতৃ ভাৰতৰ নাগৰিক আছিল

59. Respect for the National Flag and National Anthem is: ৰাষ্ট্ৰীয় পতাকা আৰু ৰাষ্ট্ৰীয় সংগীতৰ প্ৰতি সন্মান হৈছে:

- (a) Fundamental Right of every citizen / প্ৰতিজন নাগৰিকৰ মৌলিক অধিকাৰ
 (b) Fundamental Duty of every citizen / প্ৰতিজন নাগৰিকৰ মৌলিক কৰ্তব্য
 (c) Directive Principle of State policy / ৰাজ্যিক নীতিৰ নিৰ্দেশক নীতি
 (d) ordinary duty of every citizen / প্ৰতিজন নাগৰিকৰ সাধাৰণ কৰ্তব্য

60. Does the Constitution provide for a Deputy Prime Minister? ভাৰতীয় সংবিধানে এজন উপ-প্ৰধানমন্ত্ৰীৰ ব্যৱস্থা কৰিছে নেকি?

- (a) Yes / হয়
 (b) No / নহয়
 (c) Yes, during an Emergency / হয়, জৰুৰীকালীন অৱস্থাত
 (d) Yes, during a Financial Emergency / হয়, বিত্তীয় জৰুৰীকালীন অৱস্থাৰ সময়ত

61. Who among the following had the shortest tenure as Prime Minister of India? নিম্নলিখিত কাৰ ভাৰতৰ প্ৰধানমন্ত্ৰী হিচাপে আটাইতকৈ কম কাৰ্যকাল আছিল?

- (a) Morarji Desai / মোৰাৰজী দেশাই
 (b) Lal Bahadur Shastri / লাল বাহাদুৰ শাস্ত্ৰী
 (c) Charan Singh / চৰণ সিং
 (d) Rajiv Gandhi / ৰাজীৱ গান্ধী

62. Which, among the following countries, has the oldest written Constitution? নিম্নলিখিত দেশবোৰৰ ভিতৰত কোনবোৰৰ আটাইতকৈ পুৰণি লিখিত সংবিধান আছে?

- (a) Japan / জাপান
 (b) India / ভাৰত
 (c) USA / আমেৰিকা যুক্তৰাষ্ট্ৰ
 (d) UK / ইউকে

63. The Attorney General for India does not have the right to ? ভাৰতৰ এটৰ্নী জেনেৰেলৰ কোনটো অধিকাৰ নাই?

- (a) attend Parliament sessions / সংসদৰ অধিবেশনত উপস্থিত থাকিব
 (b) attend Parliamentary Committees / সংসদীয় সমিতিত উপস্থিত থাকিব
 (c) take part in the proceedings of Parliamentary Committees by expressing his views / তেওঁৰ মতামত ব্যক্ত কৰি সংসদীয় সমিতিৰ কাৰ্যক্ৰমত অংশগ্ৰহণ কৰিব
 (d) vote in Parliament / সংসদত ভোট

64. The government of Assam celebrates the death anniversary of Gopinath Bordoloi as ? অসম চৰকাৰে গোপীনাথ বৰদলৈৰ মৃত্যু বাৰ্ষিকী কি দিৱস হিচাপে উদযাপন কৰে?

- (a) Lok Kalyan Diwas / লোক কল্যাণ দিৱস
- (b) Lokpriya Diwas / লোকপ্ৰিয়া দিৱস
- (c) Lok Nirman Diwas / লোক নিৰ্মাণ দিৱস
- (d) None of the above / ওপৰৰ কোনোটো নহয়

65. The first President's rule was imposed in Assam on ? অসমত প্ৰথম ৰাষ্ট্ৰপতি শাসন জাৰি কৰা হৈছিল?

- a) 30 June 1981
- b) 12 December 1979
- c) 19 March 1982
- d) 28 November 1990

66. Which one of the following is the longest glacier in India? নিম্নলিখিত কোনটো ভাৰতৰ আটাইতকৈ দীঘল হিমবাহ?

- A) Kolhai / কোলহাই
- B) Pindari / পিন্ডাৰী
- C) Siachen / চিয়াচেন
- D) Zemu / জেমু

67. Adams bridge forms a link between? এডামছ ব্ৰীজে কাৰ মাজত এটা সংযোগ গঠন কৰে ?

- A) India and Pakistan / ভাৰত আৰু পাকিস্তান
- B) Aravalli and Satpura / আৰৱল্লী আৰু সাতপুৰা
- C) India and Srilanka / ভাৰত আৰু শ্ৰীলংকা
- D) Hyderabad and Secundrabad / হায়দৰাবাদ আৰু চেকুদ্ৰাবাদ

68. Who was the first political leader from Northeast India whose statue had a place in the Parliament premises of India? উত্তৰ-পূব ভাৰতৰ প্ৰথম ৰাজনৈতিক নেতা কোন আছিল যাৰ প্ৰতিমূৰ্তি ভাৰতৰ সংসদ চৌহদত স্থান পাইছিল?

- a) Gopinath Bordoloi / গোপীনাথ বৰদলৈ
- b) Bishnu Ram Medhi / বিষ্ণু ৰাম মেধি
- c) Manik Chandra Baruah / মানিক চন্দ্ৰ বৰুৱা
- d) Syed Muhammad Saadulla / চয়দ মুহাম্মাদ চাদুল্লা

69. The Headquarters of the International Court of Justice is ? আন্তৰ্জাতিক ন্যায়ালয়ৰ মুখ্য কাৰ্যালয় কত আছে ?

- (a) Rome / ৰোম
- (b) Venice / ভেনিচ
- (c) The Hague / দ্য হেগ
- (d) Washington / ৱাশ্বিংটন

70. Who presided over the Pandu session of INC, Guwahati in 1926? 1926 চনত গুৱাহাটীৰ INC ৰ পাণ্ডু অধিবেশনত কোনে সভাপতিত্ব কৰিছিল?

- a) Motilal Nehru / মতিলাল নেহৰু
- b) Jawaharlal Nehru / জৱাহৰলাল নেহৰু
- c) Subhash Chandra Bose / সুভাষ চন্দ্ৰ বসু
- d) S. Srinivasa Iyengar / এছ শ্ৰীনিবাস আয়েংগাৰ

71. Which city is called as City of Festivals ? কোনখন চহৰক উৎসৱৰ চহৰ বুলি কোৱা হয়?

- (a) Varanasi / বাৰাণসী
- (b) Madurai / মাদুৰাই
- (c) Chennai / চেন্নাই
- (d) Ramanathapuram / ৰামনাথপুৰম

72. Which person is called "Bird man of India" ? কোনজন ব্যক্তিক "ভাৰতৰ চৰাইপুৰুষ" বুলি কোৱা হয়?

- (a) Salim Ali / সেলিম আলী
- (b) Dr. Srikrishna Singh / ডঃ শ্ৰীকৃষ্ণ সিং
- (c) Dr. Rajendra Prasad / ডঃ ৰাজেন্দ্ৰ প্ৰসাদ
- (d) Hippocrates / হিপক্ৰেটিছ

73. Who wrote the first Assamese autobiography? প্ৰথমখন অসমীয়া আত্মজীৱনী কোনে লিখিছিল?

- (a) Lakshminath Bezbaruah / লক্ষ্মীনাথ বেজবৰুৱা
- (b) Hemchandra Baruah / হেমচন্দ্ৰ বৰুৱা
- (c) Jatindra Nath Duwara / যতীন্দ্ৰ নাথ দুৱাৰাহ
- (d) Prafulla Chandra Baruah / প্ৰফুল্ল চন্দ্ৰ বৰুৱা

74. Who composed the national anthem of Assam? কোনে
অসমৰ জাতীয় সংগীত ৰচনা কৰিছিল?

- (a) Lakshminath Bezbaruah / লক্ষ্মীনাথ বেজবৰুৱা
- (b) Hemchandra Baruah / হেমচন্দ্ৰ বৰুৱা
- (c) Chandrakumar Agarwala / চন্দ্ৰকুমাৰ আগৰৱালা
- (d) Bishnu Prasad Rabha / বিষ্ণু প্ৰসাদ ৰাভা

75. What religious ceremony do the Tai-Ahoms celebrate in
honour of their ancestors? টাই-বড়োসকলে তেওঁলোকৰ পূৰ্বপুৰুষৰ
সন্মানত কি ধৰ্মীয় অনুষ্ঠান উদযাপন কৰে?

- (a) Ali-Aye-Ligang/ আলি আই লুগাং
- (b) Bhatheli / ভাথেলি
- (c) Me-Dam-Me-Phi / মি-ডাম-মে-ফি
- (d) Chomangkan / চোমাংকন

76. When the Citizenship Amendment Bill 2016 first
introduced in Parliament? কেতিয়া নাগৰিকত্ব সংশোধনী বিধেয়ক
২০১৬ প্ৰথমবাৰৰ বাবে সংসদত উত্থাপন কৰা হৈছিল?

- (a) 19 July 2016
- (b) 19 December 2016
- (c) 8 January 2019
- (d) 9 December 2019

77. What is the earliest architecture of Assam? অসমৰ
আটাইতকৈ পুৰণি স্থাপত্য কি?

- (a) Shiva Dol / শিৱ দৌল
- (b) Devi Dol / দেৱী দৌল
- (c) Da-Parbatia toron / ডা-পাৰবাটিয়া টৰন
- (d) Umachal stone inscription / উমাচল শিলালিপি

78. When was the magazine Bahi published?
বাহি আলোচনীখন কেতিয়া প্ৰকাশ হৈছিল?

- (a) 1989
- (b) 1909
- (c) 1889
- (d) 1907

79. In which of the following states is the Silent Valley
National Park ? নিম্নলিখিত কোনখন ৰাজ্যত চাইলেন্ট ভেলি ৰাষ্ট্ৰীয়
উদ্যান আছে ?

- A) Kerala / কেৰালা
- B) Karnataka / কৰ্ণাটক
- C) Assam / অসম
- D) Mizoram / মিজোৰাম

80. In Basket Ball, how many players are there on each side ?
বাস্কেট বলত, এটা দলত কিমানজন খেলুৱৈ আছে?

- A. 7
- B. 9
- C. 5
- D. 6

82. The human heart has _____ number of chambers ?
মানুহৰ হৃদয়ত _____ সংখ্যক কোঠা থাকে ?

- A) 4
- B) 3
- C) 2
- D) 1

83. The best medicine to inject into the snake bite case is
_____. সাপ কামোৰাৰ ক্ষেত্ৰত বেজী দিয়াৰ বাবে সৰ্বশ্ৰেষ্ঠ ঔষধ
হৈছে ?

- A) Penicillin
- B) Antivenin
- C) Terramycin
- D) Streptomycin

84. Narmada river originate from ? নৰ্মদা নদীৰ উৎপত্তি হৈছে ?

- A) Angsi glacier
- B) Gongotri glacier
- C) Amarkantak glacier
- D) Multai

85. Which is the only Active Volcano in India? ভাৰতৰ একমাত্ৰ সক্ৰিয় আগ্নেয়গিৰি কোনটো?

- A) Narcondam / নাৰ্কোণ্ডাম
B) Barren Island / বেৰেন দ্বীপ
C) Baratang / বাৰাটাং
D) Deccan Traps / ডেক্কান ট্ৰেপ

MATHS :

86. If $x : y = 6 : 5$ and $z : y = 9 : 25$ then what is the ratio of $x : z$? যদি $X : Y = 6 : 5$ আৰু $Z : Y = 9 : 25$ তেনেহলে $X : Z$ ৰ অনুপাত কিমান?

- (a) 50:33
(b) 54:125
(c) 10:3
(d) 48:25

87. If Manoj purchases 324 toffees for 486, then how many toffees should he sell for 90 to earn 50% profit? যদি মনোজে 486 ত 324 টা টফী ক্ৰয় কৰে, তেন্তে 50% লাভ অৰ্জন কৰিবলৈ তেওঁ 90 ত কিমানটা টফী বিক্ৰী কৰিব লাগে?

- (a) 40
(b) 60
(c) 55
(d) 45

88. Ravi, Manish and Naveen alone can complete a work in 30 days, 15 days and 10 days respectively. They start the work together, but Ravi leaves the work after 2 days of the starting of the work and Manish leaves the work after 3 days more. In how many days Naveen will complete the remaining work? ববি, মনীষ আৰু নবীনে ক্ৰমান্বয়ে 30 দিন, 15 দিন আৰু 10 দিনত অকলে কাম এটা সম্পূৰ্ণ কৰিব পাৰে। তেওঁলোকে একেলগে কাম আৰম্ভ কৰে, কিন্তু ববিয়ে কাম আৰম্ভ হোৱাৰ 2 দিনৰ পিছত কাম টো এৰি দিয়ে আৰু মনীষে 3 দিনৰ পিছত কাম টো এৰি দিয়ে। কিমান দিনৰ ভিতৰত নবীনে বাকী থকা কামটো সম্পূৰ্ণ কৰিব?

- (a) 3 days
(b) 4 days
(c) 1 day
(d) 2 days

89. A sum of 10640 gives interest of 3724 in x years at 5% simple interest. What will be the value of x ? 10640 ৰ পৰিমাণে 5% সৰল সূতত X বছৰত 3724 সূত প্ৰদান কৰে। X ৰ মূল্য কিমান হ'ব?

- (a) 8 yr
(b) 6 yr
(c) 7 yr
(d) 9 yr

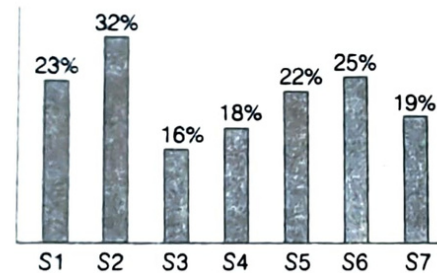
90. The Least Common Multiple and Highest Common Factor of two numbers are 60 and 4 respectively. If their sum is 32, then what will be the difference of these two numbers? দুটা সংখ্যাৰ আটাইতকৈ কম সচৰাচৰ গুণিতক(ল : সা: উ) আৰু সৰ্বোচ্চ উমৈহতীয়া(ঘ:সা:উ) কাৰক হৈছে ক্ৰমান্বয়ে 60 আৰু 4। যদি দুটাৰ যোগফল 32 হয়, তেনেহলে এই দুটা সংখ্যাৰ মাজৰ পাৰ্থক্য কিমান হ'ব?

- (a) 4
(b) 8
(c) 12
(d) 20

91. After giving a discount of 20%, a shopkeeper earns 36% profit. Marked price is what percent more than the cost price? 20% বেহাই দিয়াৰ পিছত, দোকানী এজনে 36% লাভ উপাৰ্জন কৰে। চিহ্নিত মূল্য ব্যয় মূল্যতকৈ কিমান শতাংশ বেছি?

- (a) 60%
(b) 76%
(c) 68%
(d) 70%

92. The bar chart given below shows the amount of sugar used in making 7 different varieties of sweets S1, S2, S3, S4, S5, S6 and S7 has been shown as a percentage of the total weight of the sweet. তলত দিয়া বাৰ চাৰ্টত 7 টা বিভিন্ন প্ৰকাৰৰ মিঠাই তৈয়াৰ কৰাত ব্যৱহৃত চেনীৰ পৰিমাণ S1, S2, S3, S4, S5, S6 আৰু S7 মিঠাইৰ মুঠ ওজন শতাংশ হিচাপে দেখুওৱা হৈছে।



The total weight of sweet S3 is 450 kg. What is the amount of sugar used in sweet S3 ? মিঠাই S3 ৰ মুঠ ওজন ৪৫০ কিলোগ্রাম। মিঠাই S3 ত ব্যৱহৃত চেনীৰ পৰিমাণ কিমান হ'ব ?

- (a) 72 kg
(b) 35 kg
(c) 25 kg
(d) 31 kg

93. The perimeter of a square and a circle are the same. If the area of the circle is 2464 cm, then what will be the area of the square? এটা বৰ্গ আৰু বৃত্তৰ পৰিধি একে হয় আৰু যদি বৃত্তটোৰ এলেকা 2464 চেমি হয়, তেন্তে বৰ্গটোৰ এলেকা কিমান হ'ব?

- (a) 1936 Cm²
(b) 2116 Cm²
(c) 1296 Cm²
(d) 1764 cm²

94. Piyush is running at the speed of 8 km/h and he stops for 5 min to take rest at the end of every 3rd km. What will be the time taken by Piyush to cover a distance of 56 km? পীয়ুষ ৪ কিমি/ঘন্টা বেগত দৌৰি আছে আৰু সি প্ৰতি 3 কিলোমিটাৰ শেষত বিশ্রাম ল'বলৈ 5 মিনিটৰ বাবে বয়। তেন্তে পীয়ুষে ৫৬ কিলোমিটাৰ দূৰত্ব অতিক্ৰম কৰিবলৈ কিমান সময় লা'ব?

- (a) 7 h 8h
(b) 8 h 20 min
(c) 8 h
(d) 8 h 30 min

95. If the cost price of an article is 30% less than the selling price of that article, then what will be the profit percentage? যদি প্ৰবন্ধ এটাৰ ব্যয় মূল্য সেই প্ৰবন্ধটোৰ বিক্ৰী মূল্যতকৈ 30% কম হয়, তেন্তে লাভৰ শতাংশ কিমান হ'ব?

- (a) 37.5%
(b) 33.33%
(c) 30%
(d) 42.86%

96. The height of right circular cylinder is 16 cm. If the diameter of its base is 3.5 cm, then what will be the volume of the cylinder? বৃত্তাকাৰ চিলিণ্ডাৰৰ উচ্চতা 16 চেমি। যদি ইয়াৰ ব্যাস 3.5 চেমি হয়, তেন্তে চিলিণ্ডাৰৰ পৰিমাণ কিমান হ'ব?

- (a) 308 cm³
(c) 176 cm³
(b) 616 cm³
(d) 154 cm³

97. Puneet goes to his office at the speed of 60 km/h and return to his home at the speed of 90 km/h. What will be the average speed of Puneet for the whole Journey? পুনীতে 60 কিমি/ঘন্টা বেগত তেওঁৰ কাৰ্যালয়লৈ যায় আৰু 90 কিমি/ঘন্টা বেগত তেওঁৰ ঘৰলৈ উভতি আহে। গোটেই যাত্ৰাৰ বাবে পুনীতৰ গড় গতি কিমান হ'ব?

- (a) 20 m/s
(b) 25 m/s
(c) 72 m/s
(d) 30 m/s

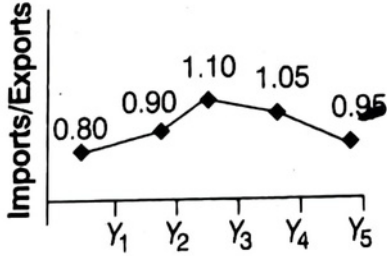
98. If A is 25% less than 8, then what will be the value of $(2B - A) / A$? যদি A, 8-তকৈ 25% কম হয়, তেন্তে $(2B - A) / A$ ৰ মূল্য কিমান হ'ব?

- A) $\frac{5}{4}$ B) $\frac{3}{2}$
C) $\frac{3}{4}$ D) $\frac{5}{3}$

99. A and B starts a business with investment of 28000 and 42000 respectively. A invests for 8 months and B invests for one year. If the total profit at the end of year is 21125, then what is the share of B? A আৰু B য়ে ক্ৰমান্বয়ে ২৮০০০ আৰু ৪২০০০ বিনিয়োগেৰে এটা ব্যৱসায় আৰম্ভ কৰে। A য়ে বিনিয়োগ কৰে ৮ মাহৰ বাবে আৰু B এবছৰৰ বাবে বিনিয়োগ কৰে। যদি বছৰৰ শেষত মুঠ লাভ 21125 হয়, তেন্তে B ৰ অংশ কিমান?

- (a) ₹ 14625
(b) ₹ 12625
(c) ₹ 13575
(d) ₹ 14285

100. The line chart given below shows the ratio of imports to exports for a country for 5 consecutive years Y^1 , Y^2 , Y^3 , Y^4 , Y^5 ? তলত দিয়া লাইন চাৰ্টখনে একেৰাহে 5 বছৰৰ বাবে এখন দেশৰ বাবে ৰপ্তানিৰ সৈতে আমদানিৰ অনুপাত দেখুৱায় Y^1 , Y^2 , Y^3 , Y^4 , Y^5 .



If the imports for year Y^5 is 76000 crore, then what will be exports (in crore) for the year Y^5 ? যদি Y^5 বৰ্ষৰ বাবে আমদানি 76000 কোটি হয়, তেন্তে Y^5 বৰ্ষৰ বাবে ৰপ্তানি (কোটিত) কি হ'ব?

- (a) ₹ 82000
(b) ₹ 80000
(c) ₹ 84000
(d) ₹ 78000

101. Sumit, Ravi and Puneet invest 45000, 81000 and 90000 respectively to start a business. At the end of the year the total profit is 4800.30% of the total profit given in charity and the rest is divided among them. What will be the share of Sumit?

সুমিত, ৰবি আৰু পুনীতে ব্যৱসায় এটা আৰম্ভ কৰিবলৈ ক্ৰমান্বয়ে 45000, 81000 আৰু 90000 বিনিয়োগ কৰে। বছৰটোৰ শেষত মুঠ লাভ হৈছে দানত দিয়া মুঠ লাভৰ 4800.30% আৰু বাকীখিনি তেওঁলোকৰ মাজত বিভক্ত। সুমিতৰ অংশ কিমান হ'ব?

- (a) ₹ 700
(b) ₹ 1260
(c) ₹ 1310
(d) ₹ 1400

102. A sum becomes 6 times of itself in 4 years at compound interest (Interest is compounded annually). In how many years will the sum become 216 times of itself? চক্রবৃদ্ধি সূতত 4 বছৰত এটা পৰিমাণ 6 গুণ হয় (বছৰি সূত বৃদ্ধি হয়)। কিমান বছৰত পৰিমাণটো নিজৰ 216 গুণ হ'ব?

- (a) 12
(b) 20
(c) 16
(d) 8

103. A alone can make a chair in 40 days and B alone can make the same chair in 24 days. If A and B are working on alternate days and A work on the first day, then in how many days the chair will be completed? A অকলে 80 দিনৰ ভিতৰত এখন চকী বনাব পাৰে আৰু B য়ে অকলে ২৪ দিনত একেখন চকী বনাব পাৰে। যদি A আৰু B-য়ে প্ৰথম দিনটোত বিকল্প দিন হিচাপে কাম কৰে আৰু A প্ৰথমে কামৰ আৰম্ভণি কৰে, তেন্তে কিমান দিনৰ ভিতৰত চকীখন সম্পূৰ্ণ হ'ব?

- (a) 34 days
(b) 32 days
(c) 28 days
(d) 30 days

104. The average of 35, 39, 41, 46, 27 and x is 38. What is the value of x? 35, 39, 41, 46, 27 আৰু X ৰ গড় হৈছে 38। এক্সৰ মান কিমান?

- (a) 44
(b) 40
(c) 38
(d) 42

105. What is the median of the given data? প্ৰদত্ত তথ্যৰ মাধ্য কি?

Savings (in ₹)	Number of people
5	1
15	3
20	4
25	2
30	1
35	1
40	2

- (a) 17.5
(b) 25
(c) 22.5
(d) 20

106. The average of six numbers N^1, N^2, N^3, N^4, N^5 and N^6 is A. 5 is subtracted from each number. What is the new average? ৬ টা সংখ্যা N^1, N^2, N^3, N^4, N^5 and N^6 ৰ গড় হৈছে A, যদি ৫ সকলো সংখ্যাৰ পৰা বিয়োগ কৰা হয় তেন্তে, নতুন গড় টো কি হব?

- (a) A-30
(c) A-6
(b) A-10
(d) A-5

107. The students of a class donated Rs. 3,481 towards relief fund. Each student donated an amount equal to the number of students in the class. The number of students in the class are: এটা শ্ৰেণীৰ শিক্ষার্থীসকলে সাহায্য পুঁজিৰ বাবে 3,481 টকা দান কৰিছিল। প্রতিজন শিক্ষার্থীয়ে শ্ৰেণীৰ শিক্ষার্থীৰ সংখ্যাৰ সমান পৰিমাণ দান কৰিছিল। শ্ৰেণীত শিক্ষার্থীৰ সংখ্যা হৈছে:

- (a) 49 (b) 51 (c) 59 (d) 61

108. If the 8-digit number $789x531y$ is divisible by 72, then the value of $(5x - 3y)$ is : যদি 8-অংকৰ সংখ্যা $789X531Y$ ই 72 ৰ দ্বাৰা বিভাজ্য, তেন্তে $(5x - 3y)$ ৰ মূল্য হৈছে:

- (a) 0
(b) -1
(c) 2
(d) 1

109. How many numbers between 400 and 700 are divisible by 5, 6 and 7? 400 ৰ পৰা 700 ৰ ভিতৰত কিমানটা সংখ্যা 5, 6 আৰু 7 ৰ দ্বাৰা বিভাজ্য?

- (a) 2
(b) 5
(c) 10
(d) 20

110. If $a : b = 3 : 2$ then $(5a + 2b) : (3a + 4b)$ is equal to: যদি $a : b = 3 : 2$ তেতিয়া $(5a + 2b) : (3a + 4b)$ সমান ?

- (a) 16:15
(b) 8:7
(c) 19:17
(d) 17:14

111. Fresh fruit contains 68% water and dry fruit contains 20% water. How much dry fruit can be obtained from 100 kg of fresh fruit ? ভাল ফলত 68% পানী থাকে আৰু শুকান ফলত 20% পানী থাকে। 100 কিলোগ্রাম ভাল ফলৰ পৰা কিমান শুকান ফল প্ৰাপ্ত কৰিব পাৰি ?

- (a) 80
(b) 60
(c) 40
(d) 20

112. Ravi can row a boat in still water at the speed of 14km/h. If a river is flowing at the speed of 2km/h and Ravi takes 3 hours to cover a certain distance upstream, then how much time will he take to cover the same distance downstream? ৰবিয়ে 14 কিমি/ঘণ্টা বেগত স্থিৰ পানীত এখন নাও শাৰী কৰিব পাৰে। যদি নদী এখন 2 কিমি/ঘণ্টা বেগত বৈ আছে আৰু ৰবিয়ে ওপৰৰ ফালে(Upstream) এটা নিৰ্দিষ্ট দূৰত্ব অতিক্ৰম কৰিবলৈ 3 ঘণ্টা সময় লয়, তেন্তে তেওঁ একে দূৰত্ব তললৈ(Downstream) অতিক্ৰম কৰিবলৈ কিমান সময় লাভ?

- (a) 2h 20m
(b) 2h
(c) 2h 15m
(d) 2h 30m

113. Rakesh walking at the speed of 8km/h crosses a bridge in 30 minutes. What is the length of the bridge in kilometers? ৰাকেশে 8 কিমি/ঘণ্টা বেগত খোজ কাঢ়ি 30 মিনিটত এখন দলং পাৰ হয়। কিলোমিটাৰত দলংখনৰ দৈৰ্ঘ্য কিমান?

- (a) 4 km
(b) 2 km
(c) 3 km
(d) 5 km

114. Out of 6 numbers, the sum of the first 5 numbers is 7 times the 6th number. If their average is 136, then the 6th number is: 6 টা সংখ্যাৰ ভিতৰত, প্ৰথম 5 টা সংখ্যাৰ যোগফল ৬ষ্ঠ সংখ্যাৰ 7 গুণ। যদি সংখ্যাৰ গড় 136 হয়, তেন্তে ৬ষ্ঠ সংখ্যাটো হৈছে:

- (a) 84
(b) 96
(c) 116
(d) 102

115. Seema purchased a mobile and got 20% discount on it. Had she got 25% discount, she would have saved Rs 1,000 more. How much did she pay for the mobile? সীমাই এটা ম'বাইল ক্ৰয় কৰিছিল আৰু ইয়াত 20% বেহাই পাইছিল। যদি তাই 25% বেহাই পালে হয়, তাই 1,000 টকা অধিক বাহি কৰিলেহেঁতেন। তাই ম'বাইলটোৰ বাবে কিমান পৰিশোধ কৰিছিল?

- (a) 25,000
- (b) 22,000
- (c) 16,000
- (d) 20,000

GENERAL ENGLISH

116. Fill in the blank with suitable word.

Its cost is.....three thousand rupees.

- (a) worth
- (b) bought
- (c) stitched
- (d) available

117. Choose the correct word.

- (a) Deceive
- (b) Decieve
- (c) Diceive
- (d) Deceivee

118. Fill in the blank with correct article.

..... stitch in time saves nine.

- (a) An
- (b) A
- (c) The
- (d) None of these

119. Select the correct verb.

Mr. Sinha helped us more than he his own students.

- (a) helped
- (b) has helped
- (c) helps
- (d) is helping

120. Identify the correct preposition.

She smiled.... my mistakes

- A) On
- B) Upon
- C) Over
- D) At

121. Choose the correctly spelt word

- (a) Sabotage
- (b) Sabbotage
- (c) Sabotaze
- (d) Sabatage

122. Find out the part which has an error in the following sentences. If there is no error the answer is (d).

The police investigated (a)/into the case (b)/ but could find no useful clues. (c)/No error (d)

Ans - B

123. Choose the alternative which is most opposite in meaning of the given word.

Un sullied

- (a) Visible
- (b) Foul
- (c) Stainless
- (d) Strong

124. Given one word substitute. One who is hard to please

- (a) fatal (b) epicurean (c) fanatic (d) fastidious

125. Give the plural of the given word.

Church

- (a) Churchs (b) Churches (c) Churched (d) Churchess

READING COMPRESSION

Read the following passage carefully and answer the questions given below it.

The Charaideo Maidams, often referred to as the "Pyramids of Assam," have recently garnered global recognition by being inscribed on the UNESCO World Heritage List. Located in the northeastern state of Assam, these ancient burial mounds are an enduring symbol of the Ahom dynasty, which ruled Assam for nearly 600 years from the 13th century. The site at Charaideo served as the original capital of the Ahom kings and is considered the most significant among over 150 Maidams scattered across the region.

The Maidams are royal burial sites where the remains of Ahom kings and nobles were entombed. The structure of a Maidam typically includes an underground vault where the body was placed, along with personal artifacts, covered by a massive earthen mound, and often topped with a stone or brick structure. These burial practices reflect the Ahom people's deep reverence for their ancestors and their belief in life after death. The architecture of the Maidams combines indigenous Assamese techniques with elements of Tai-Ahom culture, showcasing a unique blend of styles that symbolizes the dynasty's cultural synthesis.

The recent UNESCO recognition of Charaideo as a World Heritage Site underscores its cultural and historical significance. This status not only brings international attention to the site but also ensures the preservation and protection of these ancient monuments. The listing acknowledges the Charaideo Maidams as a crucial part of human history, offering insights into the funerary practices and architectural advancements of the Ahom civilization.

Efforts to include Charaideo in the UNESCO World Heritage List were driven by a growing awareness of the need to protect these structures from natural decay and human encroachment. The inscription is expected to boost conservation initiatives and promote sustainable tourism in the region, ensuring that future generations can witness and appreciate the legacy of the Ahom dynasty.

Directions (Q. 126-130) Read the passage and select the Correct Answer from the given Options .

126. What recent global recognition did the Charaideo Maidams receive?

- A) Designation as a National Monument
- B) Inscription on the UNESCO World Heritage List
- C) Inclusion in a list of Asia's Wonders
- D) Declaration as a Protected Area by the Indian Government

127. What is the architectural style of the Maidams a blend of ?

- A) Mughal and Persian styles
- B) Dravidian and Aryan styles
- C) Indigenous Assamese and Tai-Ahom styles
- D) Greek and Roman styles

128. What purpose did the Maidams serve?

- A) They were fortresses to protect the Ahom dynasty.
- B) They were religious temples for the Ahom people.
- C) They were royal burial sites for Ahom kings and nobles.
- D) They were administrative centers of the Ahom kingdom.

129. Which area is considered the most significant among the Maidams?

- A) Guwahati
- B) Tezpur
- C) Jorhat
- D) Charaideo

130. What is expected to be a benefit of the Charaideo Maidams' UNESCO World Heritage status ?

- A) Increased military protection
- B) A halt to local tourism
- C) Boosted conservation efforts and sustainable tourism
- D) Expansion of urban development around the Maidams

Directions (Q. 130-135) Read the passage and select the Correct Answer of English Language Questions from the given Options .

131. Identify the synonym for "inscription" as used in the passage:

- A) Removal
- B) Engraving
- C) Inclusion
- D) Elimination

132. Which of the following is the correct antonym of "preservation" as mentioned in the passage?

- A) Conservation
- B) Protection
- C) Destruction
- D) Maintenance

133. Identify the tense of the verb in the sentence: "Efforts to include Charaideo in the UNESCO World Heritage List were driven by a growing awareness."

- A) Present
- B) Future
- C) Past
- D) Present Perfect

134. What is the passive voice of the sentence: "The listing acknowledges the Charaideo Maidams as a crucial part of human history"?

- A) The Charaideo Maidams are acknowledged as a crucial part of human history by the listing.
- B) The Charaideo Maidams have been acknowledged by the listing.
- C) Acknowledged by the listing, the Charaideo Maidams are a crucial part of human history.
- D) The listing has acknowledged the Charaideo Maidams as a crucial part of human history.

135. Choose the correct synonym for "legacy" from the options:

- A) Inheritance
- B) Novelty
- C) Innovation
- D) Rejection

PASSAGE : 2

Bhupen Hazarika, born on September 8, 1926, in Sadiya, Assam, was a towering figure in Indian music, known for his profound contributions as a singer, composer, and filmmaker. His parents, Nilakanta and Shantipriya Hazarika, were both involved in the education sector, which played a significant role in nurturing his early love for music and literature.

At a young age, Bhupen Hazarika was immersed in the rich cultural traditions of Assam, which deeply influenced his artistic expression. He composed his first song at the age of 13 and quickly became a prominent voice in Assam. Hazarika pursued higher education in India and abroad, earning a Master's degree in Political Science from Banaras Hindu University and later a Ph.D. in Mass Communication from Columbia University in New York. His time in the United States introduced him to American folk music and the Civil Rights Movement, which significantly impacted his later work.

Hazarika's career in music and cinema was marked by his ability to blend traditional Assamese music with contemporary themes. His songs often carried powerful social messages, touching on issues like human rights, communal harmony, and the dignity of labor. He was deeply involved in the Assamese film industry, where he composed music, wrote lyrics, and directed films. Some of his most famous songs, like "Bistirno Parore" and "Manush Manusher Jonno," became anthems of social change.

In addition to his work in music and film, Bhupen Hazarika was a prominent figure in Indian politics and social activism. He served as the Chairman of the Sangeet Natak Akademi and received numerous awards, including the National Film Award, the Sangeet Natak Akademi Award, the Padma Bhushan, and posthumously, the Bharat Ratna in 2019.

Bhupen Hazarika passed away on November 5, 2011, but his legacy continues to resonate across India and beyond. His work remains a testament to the power of art in promoting social justice and preserving cultural heritage.

Directions (Q. 136 -142) Read the passage and select the Correct Answer from the given Options .

136 . What impact did Bhupen Hazarika's parents have on his early life?

- A) They discouraged his interest in music.
- B) They influenced his early love for music and literature.
- C) They sent him abroad for education.
- D) They introduced him to American folk music.

137. At what age did Bhupen Hazarika compose his first song?

- A) 10
- B) 13
- C) 18
- D) 20

138. Which event during Bhupen Hazarika's time in the United States had a significant impact on his later work?

- A) World War II
- B) The Great Depression
- C) The Civil Rights Movement
- D) The Space Race

139. What was a major theme in Bhupen Hazarika's songs?

- A) Personal relationships
- B) Social justice and human rights
- C) Nature and wildlife
- D) Economic theories

140. Which of the following roles did Bhupen Hazarika not take on in the Assamese film industry?

- A) Actor
- B) Composer
- C) Lyricist
- D) Director

141. Bhupen Hazarika received which prestigious award posthumously?

- A) Bharat Ratna
- B) Padma Shri
- C) Padma Vibhushan
- D) Sahitya Akademi Award

142. When did Bhupen Hazarika pass away?

- A) October 10, 2010
- B) September 8, 2009
- C) November 5, 2011
- D) December 25, 2012

Directions (Q. 143-150) Read the passage and select the Correct Answer of English Language Questions from the given Options .

143. Identify the synonym for "profound" from the options below:

- A) Superficial
- B) Intense
- C) Common
- D) Simple

144. Which word in the passage is a synonym for "significant"?

- A) Profound
- B) Remarkable
- C) Numerous
- D) Traditional

145. What is the tense of the verb in the sentence: "His legacy continues to resonate across India and beyond"?

- A) Past
- B) Present
- C) Future
- D) Present continuous

146. Rewrite the sentence "Bhupen Hazarika's career in music and cinema was marked by his ability to blend traditional Assamese music with contemporary themes" in the passive voice.

- A) Traditional Assamese music was blended with contemporary themes by Bhupen Hazarika in his career in music and cinema.
- B) Bhupen Hazarika blended traditional Assamese music with contemporary themes in his career.
- C) His career in music and cinema blended traditional Assamese music with contemporary themes.
- D) Contemporary themes were blended with traditional Assamese music in Bhupen Hazarika's career.

147. Identify the correct synonym for "towering" as used in the passage:

- A) Short
- B) Prominent
- C) Weak
- D) Distant

148. What is the main idea of the passage?

- A) The history of Assamese cinema.
- B) The life and contributions of Bhupen Hazarika.
- C) The influence of American folk music on Indian cinema.
- D) The challenges faced by Indian musicians abroad.

149. Identify the tense used in this sentence from the passage: "Hazarika pursued higher education in India and abroad."

- A) Simple past
- B) Present perfect
- C) Simple present
- D) Future continuous

150. Which of the following is a synonym for the word "legacy" as used in the passage?

- A) Inheritance
- B) Achievement
- C) Wealth
- D) Memory

Note : This is a Demo Pdf or demo mock test of ADRE MOCK Test Series by Assam Edu. You Can purchase the entire mock tests by Clicking on the image below



MOCK TESTS

FOR ADRE GRADE III & GRADE IV

পৰীক্ষাৰ আগত FINEL REVISION

- ✓ 4 Full Length Mock Tests
- ✓ Detailed Solutions with Explanation
- ✓ Based on Latest Syllabus & latest pattern

A MOCK TESTS CONTAINS 150 QUESTIONS 170 MARKS AND 0.25 NEGATIVE MARKS AS PER LATEST SYLLABUS

অসমীয়া আৰু ইংৰাজী দুয়টা ভাষাত উপলব্ধ

ASSAMEDU.IN

1. B

21. D

41. C

61. C

81. C

86.C

106. D

2
3
4
5
C
7
8
9
1
1
1
1
1
1
1
1
1
1
1
1
1
1
1
1
1
1
1
2
1:
1:
1:
1:
1:
1:
1:
1:
1:
1:
1:
1:
1:
1:
1:
125. B

Purchase the Entire mock test Series to view the Answer Key

MOCK TESTS

FOR ADRE GRADE III & GRADE IV

পৰীক্ষাৰ আগত **FINEL REVISION**

✓ 4 Full Length Mock Tests

✓ Detailed Solutions with Explanation

✓ Based on Latest Syllabus & latest pattern

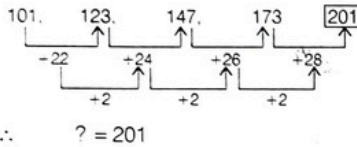
A MOCK TESTS CONTAINS 150 QUESTIONS 170 MARKS AND 0.25 NEGATIVE MARKS AS PER LATEST SYLLABUS

অসমীয়া আৰু ইংৰাজী দুয়টা ভাষাত উপলব্ধ

ASSAMEDU.IN

[Buy now](#)

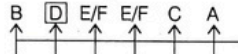
1. (b)



∴ ? = 201

2. (d) Op
patterr

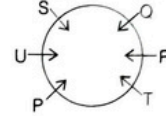
5. (b) According to the given information,



∴ Clearly, D is sitting to the immediate right of B.

6. (d) As, $12^2 = 144$

9. (a) According to the given information,



∴ Clearly, S is sitting between U and

its,

is
is
r ll follows.

Purchase the Entire mock test Series to view the detailed solution

ADRE 2.0 MOCK TESTS

FINEL REVISION BEFORE EXAM

- ✓ 4 Full Length Mock Tests
- ✓ Detailed Solution with Explanation
- ✓ 30 % Questions are from Assam Portion
- ✓ Based on latest Syllabus & Pattern

✓ SOCIAL STUDIES
 ✓ GENERAL MATHS
 ✓ GENERAL ENGLISH
✓ GENERAL KNOWLEDGE
 ✓ REASONING
 ✓ COMPREHENSION

অসমীয়া আৰু ইংৰাজী দুয়টা ভাষাত উপলব্ধ

A MOCK TESTS CONTAINS 150 QUESTIONS 175 MARKS AND 0.25 NEGATIVE MARKS AS PER LATEST SYLLABUS

ASSAMEDU.IN



$$1^2+1 \quad 2^3+2 \quad 3^4+3 \quad 4^5+4$$

∴ ? = 1028

4th	R
5th (Last)	S

86. (c) Given, $x : y = 6 : 5$
 $\Rightarrow \frac{x}{y} = \frac{6}{5}$... (i)
 $z : y = 2 : 5$

89. (c) Given, Principal = ₹ 10640,
 Rate = 5%
 Simple Interest = ₹ 2724 Time = x yr

From Eq
 $\frac{x}{y} \times \frac{y}{z}$
 $\therefore x : z$

87. (a) CP of
 CP of 1
 \therefore SP of
 $= \frac{CP \times 1}{100}$
 $= \frac{15 \times ($
 \therefore Numl

88. (c) Ravi
 Manish
 Naveen
 Accordi
 (Ravi +
 day's w

 (Ravi +
 day's w

 \therefore Rema
 Now; Ra
 (Manish
 work
 $= 3 \left(\frac{1}{15} + \right)$
 Again, re
 $= \frac{3}{5} - \frac{1}{2}$
 $\frac{10}{10} - \frac{5}{10}$
 Hence, Naveen do remaining $\left(\frac{1}{10} \right)$
 work in one day.

ADRE 2024

MOCK TEST SET - 2

QUESTION BOOKLET CODE :

NAME :

CONTACT NUMBER :

EMAIL ID :

B

1. Create a Quiet Environment: Find a quiet place where you won't be disturbed for at least 3 hours. Make sure to turn off your mobile phone and any other gadgets that might cause distractions during the exam. কমেও ৩ ঘণ্টাৰ বাবে আপুনি বিঘ্নিত নহ'বলগীয়া এটা শান্ত ঠাই বিচাৰি লওক। পৰীক্ষাৰ সময়ত আপোনাক মবাইলে ব্যাঘাত ঘটাব পাৰে তেনে মোবাইল ফোন আৰু অন্য যিকোনো গেজেট বন্ধ কৰি ৰাখক।

2. Prepare Your Materials: Ensure you have a black ballpoint pen, a rough sheet of paper, a clock or timer to monitor your time, and a water bottle to stay hydrated if necessary. এটা ক'লা বলপইণ্ট পেন, এক টুকুৰা খচৰা কাগজ, সময় চাবলৈ এখন ঘড়ী বা টাইমাৰ, আৰু প্ৰয়োজন হলে পানীৰ বতল এটা সাজু ৰাখক।

3. Exam Duration and Structure: The exam will last for 3 hours, containing 150 questions, and the total marks will be 175. Most questions are worth 1 mark each, but questions in the English comprehension section are worth 2 marks each. পৰীক্ষাৰ সময় ৩ ঘণ্টাৰ হ'ব, য'ত মুঠ ১৫০ টা প্ৰশ্ন থাকিব আৰু মুঠ নম্বৰ হ'ব ১৭৫। প্ৰায়বোৰ প্ৰশ্ন ১ নম্বৰৰ হ'ব, কিন্তু ইংৰাজী comprehension অংশৰ প্ৰশ্নবোৰ ২ নম্বৰৰ হ'ব।

4. Negative Marking: Be cautious with your answers as there is negative marking. For every incorrect answer, 1/4th of the marks for that question will be deducted. This means 0.25 marks will be deducted for wrong answers to 1-mark questions, and 0.50 marks for wrong answers to 2-mark questions. আপোনাৰ উত্তৰ দিয়াৰ সময়ত সাৱধান হ'ব, কাৰণ ভুল উত্তৰৰ বাবে নেগেটিভ মাৰ্কিং আছে। প্ৰতিটো ভুল উত্তৰৰ বাবে সেই প্ৰশ্নৰ নম্বৰৰ ১/৪ অংশ কাটি দিয়া হ'ব। ইয়াৰ অৰ্থ হ'ল ১ নম্বৰৰ প্ৰশ্নৰ ভুল উত্তৰৰ বাবে ০.২৫ নম্বৰ কাটি দিয়া হ'ব, আৰু ২ নম্বৰৰ প্ৰশ্নৰ ভুল উত্তৰৰ বাবে ০.৫০ নম্বৰ কাটি দিয়া হ'ব।

5. Question Format: The exam will consist of Multiple Choice Questions (MCQs). Each question will have only one correct answer that must be selected from the given options. পৰীক্ষাটো সম্পূৰ্ণপৰাই Multiple Choice Questions (MCQs) ৰ হ'ব। প্ৰতিটো প্ৰশ্নৰ মাত্ৰ এটা সঠিক উত্তৰ থাকিব, যি আপোনাক দিয়া বিকল্পসমূহৰ পৰা বাছনি কৰিব লাগিব।

TOTAL MARK : 175

TOTAL QUESTIONS : 150

TIME ALLOWED : 3 HOURS



ASSAMEDU.IN

PURCHASE THE TEST SERIES

MOCK TESTS

FOR ADRE GRADE III & GRADE IV

পৰীক্ষাৰ আগত FINEL REVISION

- ✓ 4 Full Length Mock Tests
- ✓ Detailed Solutions with Explanation
- ✓ Based on Latest Syllabus & latest pattern

**A MOCK TESTS CONTAINS 150 QUESTIONS 170 MARKS AND
0.25 NEGATIVE MARKS AS PER LATEST SYLLABUS**

অসমীয়া আৰু ইংৰাজী দুয়ুটা ভাষাত উপলব্ধ

ASSAMEDU.IN

**Click here to purchase
the Entire mock test
series**



OUR OTHER PRODUCTS

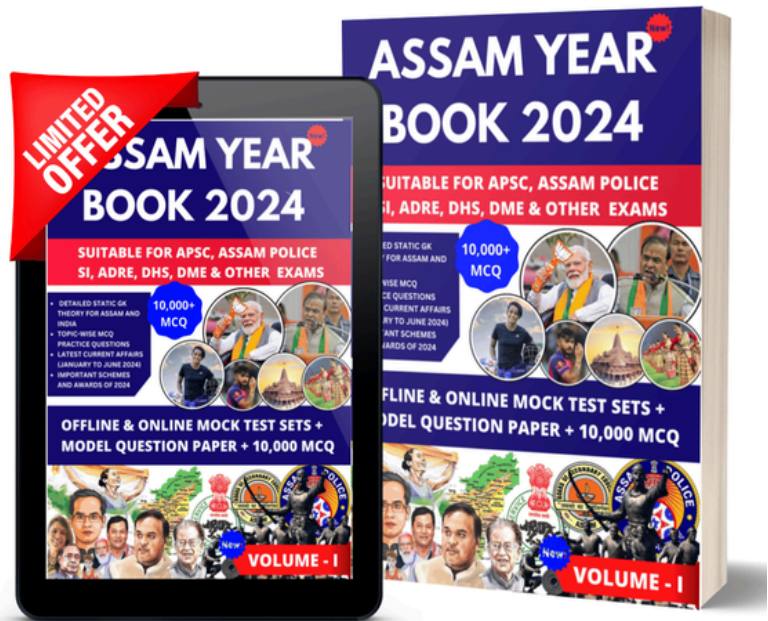
ASSAM YEAR BOOK

2024 - E BOOK

This E Book offers comprehensive coverage of the latest topics, Over 50+ Static GK Topics and additional insightful content for thorough preparation.

Important For Upcoming ADRE & Assam Police SI Exams

Buy Now



ASSAM CURRENT AFFAIRS 2024

BY ASSAMEDU.IN

- TOPIC COVERED**
- ALL CURRENT AFFAIRS FROM JANUARY TO JULY 2024
 - ALL IMPORTANT SCHEMES OF 2024
 - ALL IMPORTANT APPOINTMENTS OF 2024
 - ALL IMPORTANT AWARDS OF 2024
 - UNION BUDGET 2024
 - INDIA'S RANK IN VARIOUS INDEX 2024
 - ALL SPORTS RELATED MCQ OF 2024
 - SPECIAL MCQ ON RAM MANDIR



Click Here to view more details

ADRE MOCK TEST BY ASSAM EDU

OMR ANSWER SHEET

ROLL NO.

--	--	--	--	--	--	--	--	--	--

TEST ID

--	--	--

1 ○ ○ ○ ○ ○ ○ ○ ○ ○ ○
2 ○ ○ ○ ○ ○ ○ ○ ○ ○ ○
3 ○ ○ ○ ○ ○ ○ ○ ○ ○ ○
4 ○ ○ ○ ○ ○ ○ ○ ○ ○ ○
5 ○ ○ ○ ○ ○ ○ ○ ○ ○ ○
6 ○ ○ ○ ○ ○ ○ ○ ○ ○ ○
7 ○ ○ ○ ○ ○ ○ ○ ○ ○ ○
8 ○ ○ ○ ○ ○ ○ ○ ○ ○ ○
9 ○ ○ ○ ○ ○ ○ ○ ○ ○ ○
0 ○ ○ ○ ○ ○ ○ ○ ○ ○ ○

1 ○ ○ ○ ○
2 ○ ○ ○ ○
3 ○ ○ ○ ○
4 ○ ○ ○ ○
5 ○ ○ ○ ○
6 ○ ○ ○ ○
7 ○ ○ ○ ○
8 ○ ○ ○ ○
9 ○ ○ ○ ○
0 ○ ○ ○ ○

Name

Email

Mobile No..... Test Date...../...../.....

Candidate Sign



INSTRUCTIONS FOR FILLING THE SHEET

1. This sheet should not be folded or crushed.
2. Use only blue/ black ball point pen to fill the circles.
3. Use of pencil is strictly prohibited.
4. Circles should be darkened completely and properly.
5. Cutting and erasing on this sheet is not allowed.
6. Do not use any stray marks on the sheet.
7. Do not use marker or white fluid to hide the mark.

WRONG METHODS



CORRECT METHOD



1 ○ ○ ○ ○	26 ○ ○ ○ ○	51 ○ ○ ○ ○	76 ○ ○ ○ ○	101 ○ ○ ○ ○	126 ○ ○ ○ ○
2 ○ ○ ○ ○	27 ○ ○ ○ ○	52 ○ ○ ○ ○	77 ○ ○ ○ ○	102 ○ ○ ○ ○	127 ○ ○ ○ ○
3 ○ ○ ○ ○	28 ○ ○ ○ ○	53 ○ ○ ○ ○	78 ○ ○ ○ ○	103 ○ ○ ○ ○	128 ○ ○ ○ ○
4 ○ ○ ○ ○	29 ○ ○ ○ ○	54 ○ ○ ○ ○	79 ○ ○ ○ ○	104 ○ ○ ○ ○	129 ○ ○ ○ ○
5 ○ ○ ○ ○	30 ○ ○ ○ ○	55 ○ ○ ○ ○	80 ○ ○ ○ ○	105 ○ ○ ○ ○	130 ○ ○ ○ ○
6 ○ ○ ○ ○	31 ○ ○ ○ ○	56 ○ ○ ○ ○	81 ○ ○ ○ ○	106 ○ ○ ○ ○	131 ○ ○ ○ ○
7 ○ ○ ○ ○	32 ○ ○ ○ ○	57 ○ ○ ○ ○	82 ○ ○ ○ ○	107 ○ ○ ○ ○	132 ○ ○ ○ ○
8 ○ ○ ○ ○	33 ○ ○ ○ ○	58 ○ ○ ○ ○	83 ○ ○ ○ ○	108 ○ ○ ○ ○	133 ○ ○ ○ ○
9 ○ ○ ○ ○	34 ○ ○ ○ ○	59 ○ ○ ○ ○	84 ○ ○ ○ ○	109 ○ ○ ○ ○	134 ○ ○ ○ ○
10 ○ ○ ○ ○	35 ○ ○ ○ ○	60 ○ ○ ○ ○	85 ○ ○ ○ ○	110 ○ ○ ○ ○	135 ○ ○ ○ ○
11 ○ ○ ○ ○	36 ○ ○ ○ ○	61 ○ ○ ○ ○	86 ○ ○ ○ ○	111 ○ ○ ○ ○	136 ○ ○ ○ ○
12 ○ ○ ○ ○	37 ○ ○ ○ ○	62 ○ ○ ○ ○	87 ○ ○ ○ ○	112 ○ ○ ○ ○	137 ○ ○ ○ ○
13 ○ ○ ○ ○	38 ○ ○ ○ ○	63 ○ ○ ○ ○	88 ○ ○ ○ ○	113 ○ ○ ○ ○	138 ○ ○ ○ ○
14 ○ ○ ○ ○	39 ○ ○ ○ ○	64 ○ ○ ○ ○	89 ○ ○ ○ ○	114 ○ ○ ○ ○	139 ○ ○ ○ ○
15 ○ ○ ○ ○	40 ○ ○ ○ ○	65 ○ ○ ○ ○	90 ○ ○ ○ ○	115 ○ ○ ○ ○	140 ○ ○ ○ ○
16 ○ ○ ○ ○	41 ○ ○ ○ ○	66 ○ ○ ○ ○	91 ○ ○ ○ ○	116 ○ ○ ○ ○	141 ○ ○ ○ ○
17 ○ ○ ○ ○	42 ○ ○ ○ ○	67 ○ ○ ○ ○	92 ○ ○ ○ ○	117 ○ ○ ○ ○	142 ○ ○ ○ ○
18 ○ ○ ○ ○	43 ○ ○ ○ ○	68 ○ ○ ○ ○	93 ○ ○ ○ ○	118 ○ ○ ○ ○	143 ○ ○ ○ ○
19 ○ ○ ○ ○	44 ○ ○ ○ ○	69 ○ ○ ○ ○	94 ○ ○ ○ ○	119 ○ ○ ○ ○	144 ○ ○ ○ ○
20 ○ ○ ○ ○	45 ○ ○ ○ ○	70 ○ ○ ○ ○	95 ○ ○ ○ ○	120 ○ ○ ○ ○	145 ○ ○ ○ ○
21 ○ ○ ○ ○	46 ○ ○ ○ ○	71 ○ ○ ○ ○	96 ○ ○ ○ ○	121 ○ ○ ○ ○	146 ○ ○ ○ ○
22 ○ ○ ○ ○	47 ○ ○ ○ ○	72 ○ ○ ○ ○	97 ○ ○ ○ ○	122 ○ ○ ○ ○	147 ○ ○ ○ ○
23 ○ ○ ○ ○	48 ○ ○ ○ ○	73 ○ ○ ○ ○	98 ○ ○ ○ ○	123 ○ ○ ○ ○	148 ○ ○ ○ ○
24 ○ ○ ○ ○	49 ○ ○ ○ ○	74 ○ ○ ○ ○	99 ○ ○ ○ ○	124 ○ ○ ○ ○	149 ○ ○ ○ ○
25 ○ ○ ○ ○	50 ○ ○ ○ ○	75 ○ ○ ○ ○	100 ○ ○ ○ ○	125 ○ ○ ○ ○	150 ○ ○ ○ ○

IMPORTANT LINKS

OUR YOUTUBE CHANNEL	<u>Clickhere</u>
DOWNLOAD OUR OFFICIAL APP	<u>Clickhere</u>
JOIN OUR TELEGRAM CHANNEL	<u>Clickhere</u>
VISIT OUR OFFICIAL WEBSITE	<u>Clickhere</u>
JOIN DAILY MOCK TESTS CHANNEL	<u>Clickhere</u>
PURCHASE ADDITIONAL MOCK TESTS	<u>Clickhere</u>
PURCHASE E BOOK FOR ASSAM POLICE SI EXAMINATION	<u>Clickhere</u>
MOCK TESTS SERIES	<u>Clickhere</u>

PURCHASE OUR E BOOK

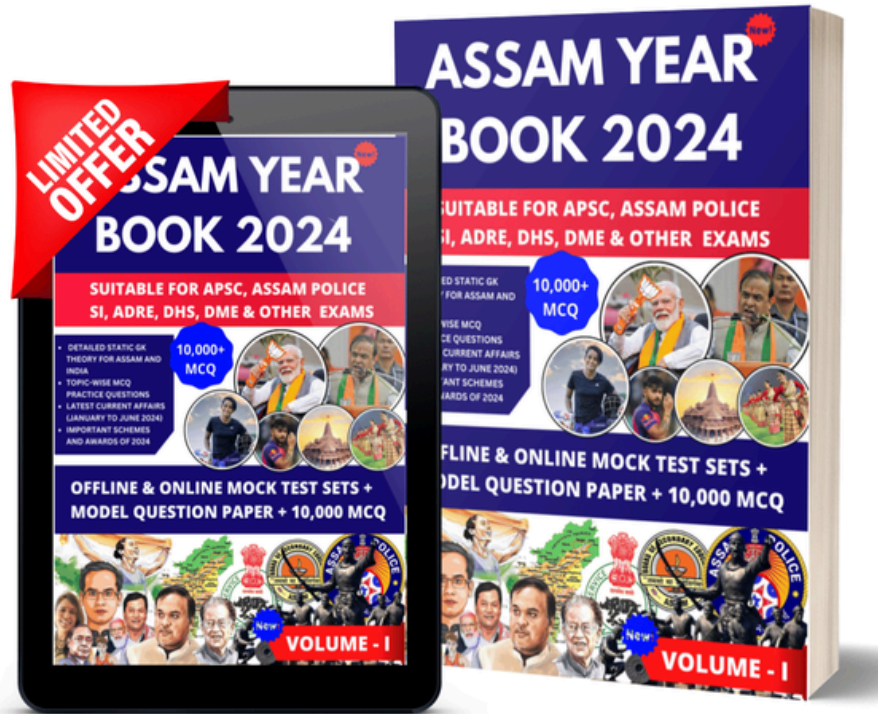
ASSAM YEAR BOOK

2024 - E BOOK

This E Book offers comprehensive coverage of the latest topics, Over 50+ Static GK Topics and additional insightful content for thorough preparation.

Important For Upcoming ADRE & Assam Police SI Exams

Buy Now



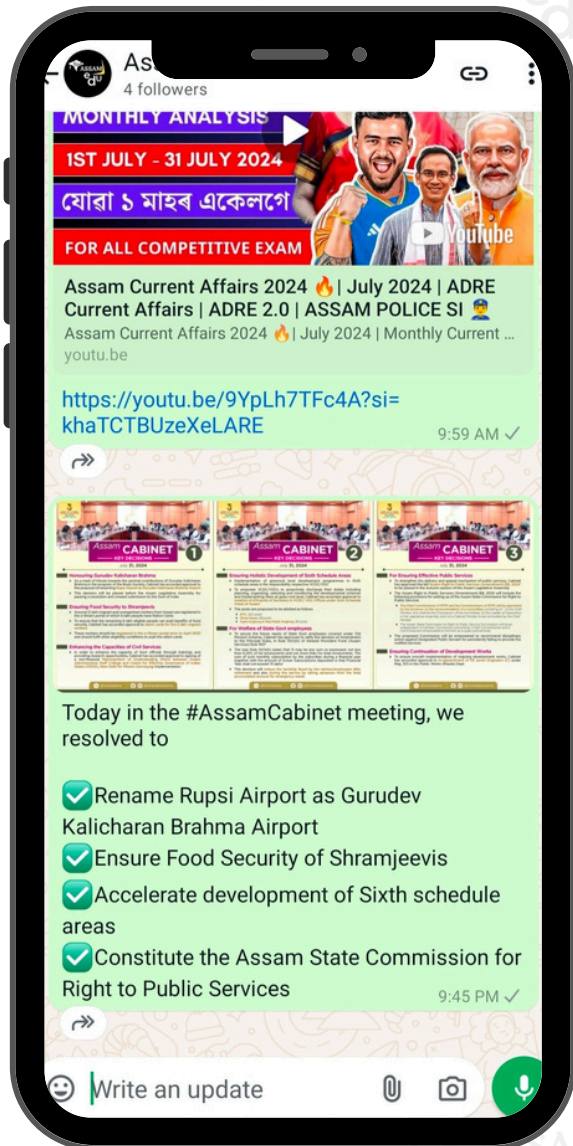
Purchase Link -

<https://missionap.assamedu.in/product/assam-year-book-2024/>

Demo PDF Free Download Link -

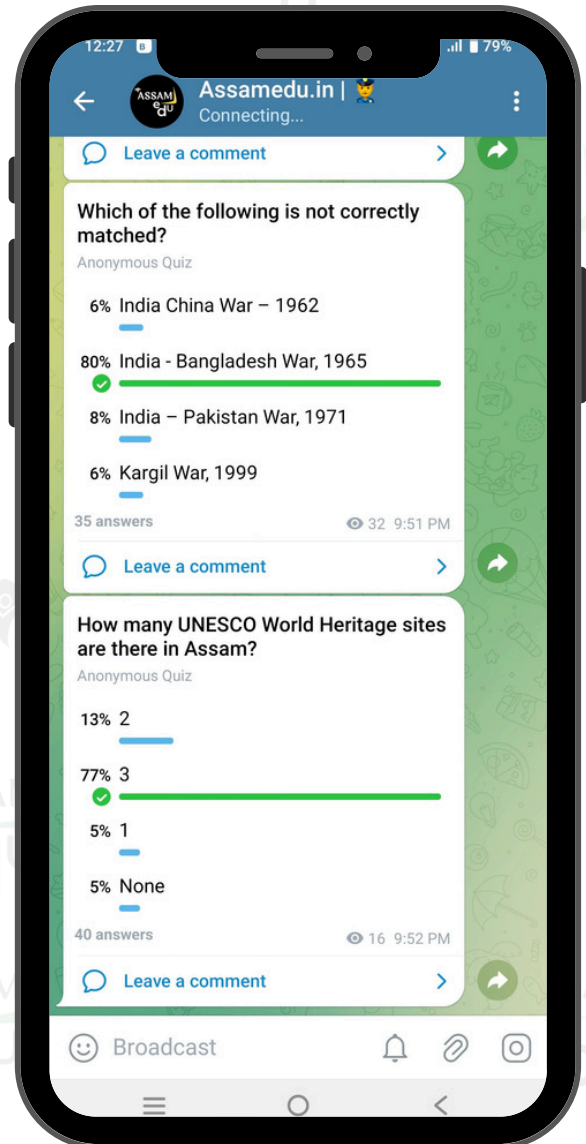
<https://missionap.assamedu.in/wp-content/uploads/2024/06/Assam-year-book-Sample-Copy-.pdf>

JOIN US



JOIN OUR WHATSAPP
CHANNEL

[Clickhere](#)



JOIN OUR TELEGRAM
CHANNEL

[Clickhere](#)

JOIN OUR TELEGRAM & WHATSAPP CHANNEL FOR
FREE STUDY MATERIALS & DAILY MCQ